

問題5

わたしは どんな数でしょう

【答 え】

① わたしは「9」です。

$$9 - 6 = 3$$

$$12 - 9 = 3$$

② わたしは「8」です。

$$8 \div 4 = 2$$

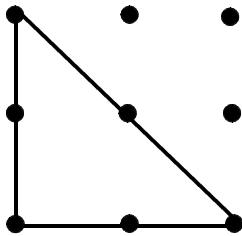
$$16 \div 8 = 2$$

問題6

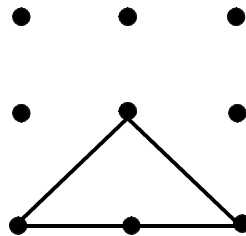
三角形づくり

【答 え】 8つの三角形ができます。

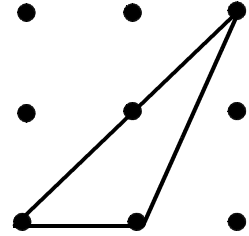
㉑



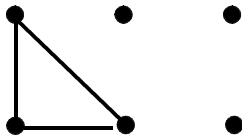
㉒



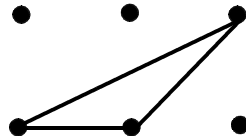
㉓



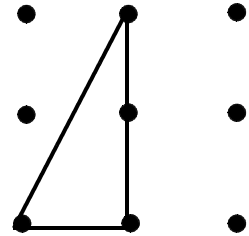
㉔



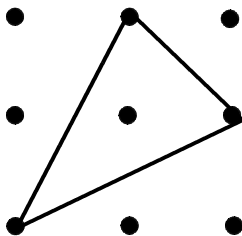
㉕



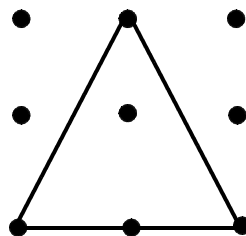
㉖



㉗



㉘



【解 説】 大きさも形もちがう三角形が8つできます。8つの三角形のうち、㉑ ㉒ ㉔ ㉗

㉘ の5つは、二等辺三角形。㉑ ㉒ ㉔ ㉖ の4つは直角三角形です。